

Bonjour à tous et à toutes.

Voici le travail que vous devez réaliser pour la rentrée après les congés de Pâques.

Si vous avez des questions vous pouvez me contacter via mon adresse mail : beatrice-bini@hotmail.com.

On vous souhaite beaucoup de courage pour affronter cette situation peu évidente.
Prenez soin de vous et comportez-vous en bon citoyen!

5 ème coiffure.

Cours de technologie : UAA2 Mise en situation de permanente

- 1) Madame Durant désire une frisure bouclée moyenne, quels bigoudis vas-tu utiliser en sachant qu'elle a 10cm au sommet et 8cm dans la nuque ?
- 2) Combien de passage dois-je faire lors de ma saturation ?
- 3) Madame Durant désire faire une permanente, son cheveu est coloré au 20vol quel produit vas-tu utiliser et quel est le temps de pause ?
- 4) Une cliente rentre dans la classe atelier, elle veut un soutien de coiffure.
Son cheveu est coloré au 30 vol.
Quel soin préopératoire vas-tu utiliser
Quel produit allez-vous utiliser ? Indiquez le nom et la force.
- 5) Une cliente rentre dans la classe atelier, elle veut un soutien de coiffure.
Son cheveu est fin et naturel.
Quel produit allez-vous utiliser (le nom et la force) ?
Quel est le temps de pause ?
- 6) Une cliente rentre dans la classe atelier, elle veut un soutien de coiffure.
Son cheveu est coloré au 20vol, méché au 30vol et elle a une repousse de 4cm.
Que faut-il faire comme soins préopératoires ?
Quel produit allez-vous utiliser (le nom et la force) ?
Quel est le temps de pause ?


Madame Bini B.

Suite


Cours de technologie : UAA1 Analyse de coupe.

La coupe Massive Diagonale avant

Décrivez :

	Ligne de forme extérieure :
	Nombres de divisions :
	Séparations :
	Projection :
	Distribution :
	Ligne composante :
	Positions des doigts
	Texture :

Dessinez : Les divisions, les séparations et la structure.



La coupe Massive Horizontale.

Décrivez :



Ligne de forme extérieure :

Nombres de divisions :

Séparations :

Projection :


Distribution :

Ligne composante :

Positions des doigts

Texture :

Dessinez : Les divisions, Les séparations et la structure.



Madame Bini B.