

Solutions des exercices de préparation au contrôle de synthèse n°1

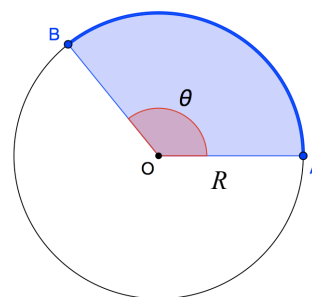
Classes de 5^e - Mathématique 6h - A. Vandenberghe

Trigonométrie

1. Circonférence de \mathcal{C} : $2\pi R = 8\pi$ (cm). Aire du disque de \mathcal{C} : $\pi R^2 = 16\pi$ (cm²).
 - a) i. Un angle de 2π radians intercepte toute la circonférence, soit 8π (cm).
Un angle de 1 radian intercepte un arc de $\frac{8\pi}{2\pi} = 4$ (cm).
Un angle de 1,5 radians intercepte un arc de $1,5 \times 4$ (cm) = 6 (cm).
 - ii. À un angle de 2π radians correspond l'aire du disque entier, soit 16π (cm²).
À un angle de 1 radian correspond un secteur dont l'aire vaut $\frac{16\pi}{2\pi} = 8$ (cm²).
À un angle de 1,5 radians correspond un secteur d'aire $1,5 \times 8$ (cm²) = 12 (cm²).

En généralisant ces démarches, on trouve deux formules utiles.
Si, dans un cercle de centre O et de rayon R , on considère un angle \widehat{AOB} d'amplitude θ radians, alors :

- la longueur de l'arc de cercle AB est : $\theta \cdot R$;
- l'aire du secteur de disque AOB est : $\theta \cdot \frac{R^2}{2}$.



- b) Soit α l'amplitude, en radians, de l'angle \widehat{POQ} .
Nous avons : $\alpha \cdot 4 = 2 \rightarrow \alpha = 0,5$ (rad). Et donc : $\alpha = 0,5 \cdot \frac{180^\circ}{\pi} \approx 28,6479^\circ$.

2. Soit φ l'amplitude en radians de l'angle \widehat{ROS} .
 - a) $\varphi \cdot \frac{10^2}{2} = 200 \rightarrow \varphi = 4$ radians soit environ $229,1831^\circ$;
 - b) $10\varphi \approx 40$ (cm) .

3. Transformons d'abord l'expression de f : $f(x) = 3 \cdot \sin\left[4\left(x + \frac{\pi}{24}\right)\right] + 2$.
 - a) Valeurs moyenne, maximale et minimale : respectivement 2, 5 et -1 .
Amplitude : 3 . Période : $T = 2\pi/|b| = 2\pi/4 = \pi/2$. Comme $c = -\pi/24$, on peut représenter un cycle dans l'intervalle $\left[-\frac{\pi}{24}, \frac{\pi}{2} - \frac{\pi}{24}\right]$.
Un cycle de la fonction peut donc être représenté dans la fenêtre $\left[-\frac{\pi}{24}, \frac{11\pi}{24}\right] \times [-1,5]$.

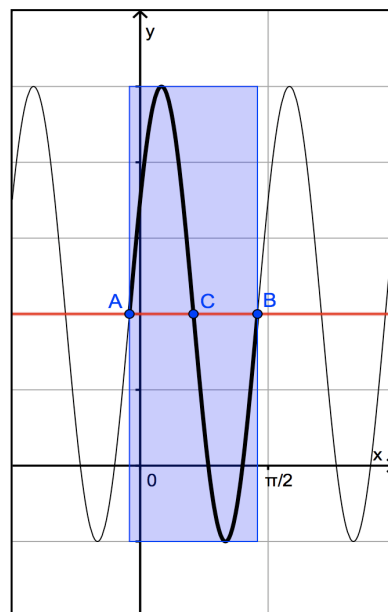
b) Nous avons les points $A\left(-\frac{\pi}{24}, 2\right)$, $B\left(\frac{11\pi}{24}, 2\right)$ et $C\left(\frac{5\pi}{24}, 2\right)$.

L'abscisse du maximum est la moyenne arithmétique de celles de A et de C .

$$\text{Donc : } \text{Max}\left(\frac{\pi}{12}, 5\right).$$

L'abscisse du minimum est la moyenne arithmétique de celles de C et de B .

$$\text{Donc : } \text{Min}\left(\frac{\pi}{3}, -1\right).$$



4. Voici les « couples graphique - formule » avec des indices ayant permis de les retrouver.

- ① - F (période : 2π , translation de $y = \sin x$ de $\pi/2$ vers la droite ; on peut aussi « voir » $f(x) = -\cos x$ et retrouver la formule proposée par les angles complémentaires).
- ② - E (période : π , fonction de référence $y = \cos x$; il s'agit donc de $f(x) = \cos(2x)$ et les angles complémentaires permettent de retrouver $f(x) = \sin(\pi/2 - 2x)$).
- ③ - I (demi-période : 2π ; période : 4π , donc, $b = 1/2$; valeur moyenne : 1).
- ④ - C (période : 2π ; valeur moyenne : -1 ; translation de $\pi/3$ vers la gauche).
- ⑤ - D (période : 2π ; valeur moyenne : -1 ; translation de $2\pi/3$ vers la droite).
- ⑥ - A (demi-période : $5\pi/2$; période : 5π , donc, $b = 2/5$; valeur moyenne : 2).
- ⑦ - G (période : 2π ; amplitude : 2 ; valeur moyenne : -1 ; translation de $y = \cos x$ de $\pi/4$ vers la gauche).
- ⑧ - B (période : 2π ; amplitude : 2 ; valeur moyenne : -1 ; fonction de référence : $y = -\sin x$).

Remarque : en pratique, vous pouvez retrouver beaucoup de formules en testant des points particuliers des graphiques. Par exemple, pour vérifier que la formule G correspond au graphique n°7, on peut calculer $f(0) = 2 \cdot \cos \frac{\pi}{4} - 1 = \sqrt{2} - 1 \approx 0,41$, ce qui semble bien correct.

5. Amplitude : 2 . Valeur moyenne : 1 . Période : $3\pi/4 - \pi/12 = 2\pi/3$, ce qui nous permet de prendre $b = 3$.

La fonction de référence $y = \sin x$ a été translatée de $\pi/12$ vers la droite.

Conclusion : $f(x) = 2 \cdot \sin\left[3\left(x - \frac{\pi}{12}\right)\right] + 1 = 2 \cdot \sin\left(3x - \frac{\pi}{4}\right) + 1$.

$$6. \quad a) \quad \sin(2a) = 2 \cdot \sin a \cdot \cos a = 2 \cdot \sqrt{1 - \cos^2 a} \cdot \cos a = 2 \cdot \sqrt{1 - \frac{1}{16}} \cdot \left(-\frac{1}{4}\right) = -\frac{\sqrt{15}}{8}$$

Nous n'avons pas envisagé $\sin a = -\sqrt{1 - \cos^2 a}$, car $a \in \left[\frac{\pi}{2}, \pi\right]$ et donc $\sin a \geq 0$.

$$b) \quad \tan(2a) = \frac{\sin(2a)}{\cos(2a)} = \frac{\sin(2a)}{2 \cdot \cos^2 a - 1} = \frac{-\frac{\sqrt{15}}{8}}{-\frac{7}{8}} = \frac{\sqrt{15}}{7}$$

$$7. \quad a) \quad \cos(2a) = 2 \cdot \cos^2 a - 1 = 2 \cdot \frac{16}{25} - 1 = \frac{7}{25}$$

$$b) \quad \cos(a+b) = \cos a \cdot \cos b - \sin a \cdot \sin b = -\frac{4}{5} \cdot \frac{1}{4} - \left(-\sqrt{1 - \frac{16}{25}}\right) \cdot \left(-\sqrt{1 - \frac{1}{16}}\right) = -\frac{1}{5} - \frac{3\sqrt{15}}{20}$$

$$c) \quad \sin(a-b) = \sin a \cdot \cos b - \sin b \cdot \cos a = -\frac{3}{5} \cdot \frac{1}{4} - \left(-\frac{\sqrt{15}}{4}\right) \cdot \frac{-4}{5} = -\frac{3}{20} - \frac{\sqrt{15}}{5}$$

$$d) \quad \tan(a-b) = \frac{\sin(a-b)}{\cos(a-b)} = \frac{-\frac{3}{20} - \frac{\sqrt{15}}{5}}{-\frac{4}{20} + \frac{3\sqrt{15}}{20}} = \frac{3 + 4\sqrt{15}}{4 - 3\sqrt{15}}$$

$$8. \quad a) \quad \sin 5x - \sin 7x = 0 \stackrel{\text{Simpson}}{\Leftrightarrow} 2 \cdot \sin(-x) \cdot \cos(6x) = 0 \Leftrightarrow (-x = k\pi) \vee \left(6x = \frac{\pi}{2} + k\pi\right)$$

$$\Leftrightarrow (x = k\pi) \vee \left(x = \frac{\pi}{12} + k\frac{\pi}{6}\right)$$

$$b) \quad x = 0, \frac{\pi}{12}, \frac{\pi}{4}, \frac{5\pi}{12}, \frac{7\pi}{12}, \frac{3\pi}{4}, \frac{11\pi}{12}, \pi, \frac{13\pi}{12}, \frac{5\pi}{4}, \frac{17\pi}{12}, \frac{19\pi}{12}, \frac{7\pi}{4}, \frac{23\pi}{12}, 2\pi.$$

$$9. \quad a) \quad 2 \cdot \cos^2 x + \cos x = 0 \Leftrightarrow \cos x \cdot (2 \cdot \cos x + 1) = 0 \Leftrightarrow (\cos x = 0) \vee \left(\cos x = -\frac{1}{2}\right)$$

$$\Leftrightarrow \left(x = \frac{\pi}{2} + k\pi\right) \vee \left(x = \frac{2\pi}{3} + k2\pi\right) \vee \left(x = -\frac{2\pi}{3} + k2\pi\right).$$

b) En posant $y = \sin x$, l'équation s'écrit $4y^2 + 3y - 1 = 0$.
 Cette équation du second degré admet les solutions $y = \frac{1}{4}$ et $y = -1$, donc :

$$\left(\sin x = \frac{1}{4}\right) \vee (\sin x = -1) \Leftrightarrow (x \approx 0,2527 + k2\pi) \vee (x \approx 2,8889 + k2\pi) \vee \left(x = -\frac{\pi}{2} + k2\pi\right)$$

$$c) \quad \tan x = -\frac{\sqrt{3}}{3} \Leftrightarrow x = -\frac{\pi}{6} + k\pi$$

d) On pose $\tan \varphi = \frac{b}{a} = -\sqrt{3}$. Prenons $\varphi = -\frac{\pi}{3}$. L'équation initiale est équivalente à :

$$\cos(x - \varphi) = \frac{c}{a} \cdot \cos \varphi \Leftrightarrow \cos\left(x + \frac{\pi}{3}\right) = \sqrt{3} \cdot \frac{1}{2} \Leftrightarrow x + \frac{\pi}{3} = \pm \frac{\pi}{6} + k2\pi.$$

$$\text{Finalement : } \left(x = -\frac{\pi}{6} + k2\pi\right) \vee \left(x = -\frac{\pi}{2} + k2\pi\right).$$

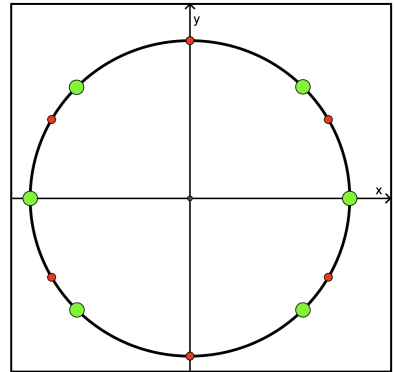
10. Sous les conditions d'existence $x \neq \frac{\pi}{2} + k\pi$ et $3x \neq \frac{\pi}{2} + k\pi \Leftrightarrow x \neq \frac{\pi}{6} + k\frac{\pi}{3}$, nous avons :

$$\tan(3x) + \tan x = 0 \stackrel{\text{Simpson}}{\Leftrightarrow} \frac{\sin(4x)}{\cos(3x) \cdot \cos(x)} = 0 \Leftrightarrow \sin(4x) = 0 \Leftrightarrow 4x = k\pi \Leftrightarrow x = k\frac{\pi}{4} .$$

Les solutions de cette équation sont tous les multiples entiers de $\pi/4$ qui ne sont pas multiples entiers impairs de $\pi/2$:

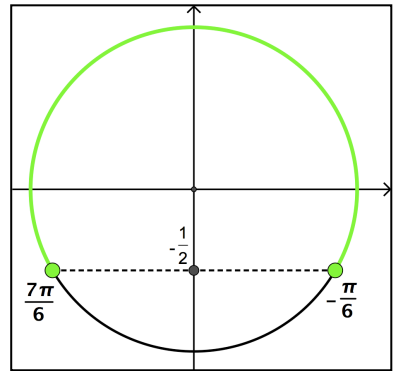
..., $-3\pi/4$, $-\pi/4$, 0 , $\pi/4$, $3\pi/4$, π , $5\pi/4$, $7\pi/4$, ...

Ci-contre, les gros points (en vert) correspondent aux solutions. Les petits points (en rouge) correspondent aux réels qu'il faut rejeter conformément aux conditions d'existence.



11. $2 \cdot \sin x + 1 \geq 0 \Leftrightarrow \sin x \geq -\frac{1}{2}$

$$S = \bigcup_{k \in \mathbb{Z}} \left[-\frac{\pi}{6} + k2\pi, \frac{7\pi}{6} + k2\pi \right]$$



12. $\frac{\sin a}{1 + \cos a} \stackrel{\text{duplication}}{=} \frac{2 \cdot \sin \frac{a}{2} \cdot \cos \frac{a}{2}}{1 + \left(2 \cdot \cos^2 \frac{a}{2} - 1 \right)} = \frac{2 \cdot \sin \frac{a}{2} \cdot \cos \frac{a}{2}}{2 \cdot \cos^2 \frac{a}{2}} = \frac{\sin \frac{a}{2}}{\cos \frac{a}{2}} = \tan \frac{a}{2} .$

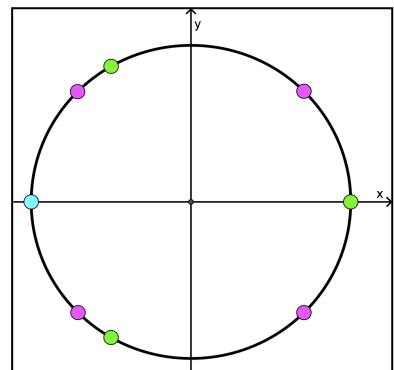
13. $\frac{\sin 6x - \sin 2x}{2 \cdot \cos 4x \cdot (2 \cos^2 x - 1)} \stackrel{\text{Simpson-Carnot}}{=} \frac{2 \cdot \sin 2x \cdot \cos 4x}{2 \cdot \cos 4x \cdot \cos 2x} = \frac{\sin 2x}{\cos 2x} = \tan 2x .$

14. $\sin(3x) + \sin(4x) - 2 \cos\left(\frac{x}{2}\right) \sin\left(\frac{x}{2}\right) = 0 \stackrel{\text{Simpson}}{\Leftrightarrow} 2 \cdot \sin\left(\frac{7x}{2}\right) \cdot \cos\left(\frac{-x}{2}\right) - 2 \cos\left(\frac{x}{2}\right) \sin\left(\frac{x}{2}\right) = 0$
 $\stackrel{\text{mise en évidence}}{\Leftrightarrow} 2 \cdot \cos\left(\frac{x}{2}\right) \cdot \left[\sin\left(\frac{7x}{2}\right) - \sin\left(\frac{x}{2}\right) \right] = 0 \stackrel{\text{Simpson}}{\Leftrightarrow} 4 \cdot \cos\left(\frac{x}{2}\right) \cdot \sin\left(\frac{3x}{2}\right) \cdot \cos(2x) = 0 .$

Solutions :

$$\frac{x}{2} = \frac{\pi}{2} + k\pi \text{ ou } \frac{3x}{2} = k\pi \text{ ou } 2x = \frac{\pi}{2} + k\pi$$

$$x = \pi + k2\pi \text{ ou } x = \frac{2k\pi}{3} \text{ ou } x = \frac{\pi}{4} + k\frac{\pi}{2}$$



Vecteurs de l'espace et produit scalaire

Nous travaillons toujours dans un repère orthonormé du plan ou de l'espace

1. Soient les points $A(2,7,9)$, $B(5,7,8)$ et $C(3,5,0)$.

$$a) \quad \vec{v} = 5 \cdot \vec{AB} - 3 \cdot \vec{AC} = 5 \cdot \begin{pmatrix} 3 \\ 0 \\ -1 \end{pmatrix} - 3 \cdot \begin{pmatrix} 1 \\ -2 \\ -9 \end{pmatrix} = \begin{pmatrix} 12 \\ 6 \\ 22 \end{pmatrix} \rightarrow \|\vec{v}\| = \sqrt{144 + 36 + 484} = \sqrt{664} \approx 25,77.$$

$$b) \quad \text{Soit } D(24, y, z). \text{ Il faut que } \vec{CD} = k \cdot \vec{AB} \Leftrightarrow \begin{pmatrix} 21 \\ y-5 \\ z \end{pmatrix} = k \cdot \begin{pmatrix} 3 \\ 0 \\ -1 \end{pmatrix} \text{ et donc } k = 7.$$

On en déduit $y = 5$ et $z = -7$.

$$c) \quad \text{Soit } \theta \text{ l'angle cherché. On a : } \cos \theta = \frac{\vec{AB} \cdot \vec{AC}}{\|\vec{AB}\| \cdot \|\vec{AC}\|} = \frac{12}{\sqrt{10} \cdot \sqrt{86}} \rightarrow \theta \approx 65,8456^\circ.$$

2. a) Il est suffisant de montrer que $\vec{AH} = k \cdot \vec{AB}$.

$$\text{C'est le cas : } \vec{AH} \begin{pmatrix} 5 \\ 2 \end{pmatrix} = \frac{1}{3} \cdot \vec{AB} \begin{pmatrix} 15 \\ 6 \end{pmatrix} \text{ et le point } H \text{ est donc aligné avec } A \text{ et } B.$$

$$b) \quad \text{On a : } \vec{CH} \cdot \vec{AB} = \begin{pmatrix} 8 \\ -20 \end{pmatrix} \cdot \begin{pmatrix} 15 \\ 6 \end{pmatrix} = 120 + (-120) = 0 \rightarrow \vec{CH} \perp \vec{AB}.$$

$$c) \quad \text{Aire}(ABC) = \frac{\|\vec{CH}\| \cdot \|\vec{AB}\|}{2} = \frac{\sqrt{464} \cdot \sqrt{261}}{2} = \frac{4\sqrt{29} \cdot 3\sqrt{29}}{2} = 174(\text{ua}).$$

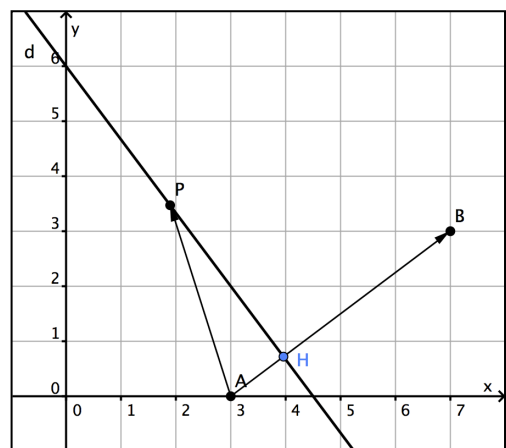
3. Calculons d'abord la pente de AB :

$$m_{AB} = \frac{y_B - y_A}{x_B - x_A} = \frac{3}{4}.$$

La pente de d s'obtient en mettant son équation sous forme explicite par rapport à y :

$$d \equiv y = -\frac{4}{3}x + \frac{9}{2} \rightarrow m_d = -\frac{4}{3}.$$

Les droites AB et d sont donc perpendiculaires et tout vecteur \vec{AP} aura pour projection orthogonale sur AB le vecteur \vec{AH} .



Donc, quel que soit $P \in d$, on a : $\vec{AP} \cdot \vec{AB} = \vec{AH} \cdot \vec{AB} = \|\vec{AH}\| \cdot \|\vec{AB}\|$.

Le produit de ces deux longueurs est une constante car les points A , B et H sont fixes). Pour trouver cette constante, prenons un point P particulier, par exemple $(0,6)$:

$$\vec{AP} \cdot \vec{AB} = \begin{pmatrix} -3 \\ 6 \end{pmatrix} \cdot \begin{pmatrix} 4 \\ 3 \end{pmatrix} = 6. \text{ Essayez aussi avec } P(3,2), \text{ ou d'autres points de } AB \dots$$

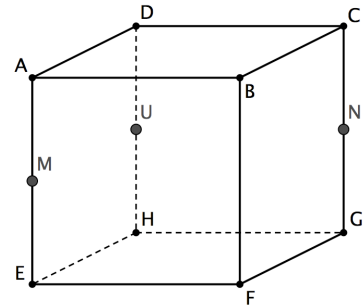
$$4. \quad \vec{u} \perp \vec{v} \Leftrightarrow \begin{pmatrix} m \\ 3 \\ 6 \end{pmatrix} \cdot \begin{pmatrix} m-1 \\ 0 \\ m \end{pmatrix} = 0 \Leftrightarrow m^2 + 5m = 0 \Leftrightarrow m \cdot (m+5) = 0 \Leftrightarrow (m=0) \vee (m=-5).$$

5. a) Soient M et N les milieux respectifs de $[AE]$ et $[CG]$. On a :

$$\vec{ER} = \frac{1}{2}\vec{EA} + \vec{AC} = \vec{EM} + \vec{MN} = \vec{EN} \rightarrow R = N.$$

- b) Soient U le milieu de $[DH]$. On a :

$$\vec{BS} = \vec{CD} + \frac{1}{2}\vec{DH} = \vec{CD} + \vec{DU} = \vec{CU} = \vec{BM} \rightarrow S = M.$$



6. Il est suffisant de démontrer que $\vec{PQ} = \vec{SR}$ (on peut aussi prouver que $\vec{PS} = \vec{QR}$).

$$\begin{aligned} \vec{PQ} &= \vec{PB} + \vec{BQ} && \text{(relation de CHASLES)} \\ &= \vec{HR} + \vec{SH} && \text{(par hypothèse)} \\ &= \vec{SH} + \vec{HR} && \text{(commutativité de l'addition vectorielle)} \\ &= \vec{SR} && \text{(relation de CHASLES)} \end{aligned}$$

7. Le point A est le symétrique de B par rapport à l'axe des abscisses, donc : $A(1, -1, 0)$.

a) Nous avons, $\vec{SA} \begin{pmatrix} 1 \\ -1 \\ -2 \end{pmatrix}$ et $\vec{SB} \begin{pmatrix} 1 \\ 1 \\ -2 \end{pmatrix}$.

$$\text{Donc : } \cos \hat{ASB} = \frac{4}{\sqrt{6} \cdot \sqrt{6}} = \frac{2}{3} \rightarrow \hat{ASB} \approx 48,1897^\circ.$$

- b) On vérifie aisément que OS est perpendiculaire au plan $ABCD$ et donc à OB .

Le produit scalaire s'obtient donc par projection orthogonale du vecteur \vec{BS} sur le vecteur \vec{OB} : $\vec{OB} \cdot \vec{BS} = \vec{OB} \cdot \vec{BO} = -\|\vec{OB}\|^2 = -(\sqrt{2})^2 = -2$.

Évidemment, on peut toujours utiliser les composantes : $\vec{OB} \cdot \vec{BS} = \begin{pmatrix} 1 \\ 1 \\ 0 \end{pmatrix} \cdot \begin{pmatrix} -1 \\ -1 \\ 2 \end{pmatrix} = -2$.

8. Utilisons notre première définition du produit scalaire : $\vec{u} \cdot \vec{v} = \|\vec{u}\| \cdot \|\vec{v}\| \cdot \cos \theta$.

D'abord, $\|\vec{u}\| = \sqrt{100 + 5 + 16} = \sqrt{121} = 11$. Ensuite, $\cos \theta = \cos(60^\circ) = \frac{1}{2}$.

Remplaçant dans la formule, nous obtenons : $33 = 11 \cdot \|\vec{v}\| \cdot \frac{1}{2} \rightarrow \|\vec{v}\| = \frac{2}{3}$.

Géométrie synthétique de l'espace

1.
 - a) La droite DG est parallèle à la droite AF (car $ADGF$ est un rectangle).
Comme AF est contenue dans le plan ACF , on a $DG \parallel ACF$.
 - b) La droite DE est parallèle au plan ACF (car $DE \parallel CF$ et CF est contenue dans ACF ; même raisonnement qu'en (a)).
Les droites DG (voir (a)) et DE sont donc toutes deux parallèles à ACF , toutes deux contenues dans DGE , et elles y sont sécantes.
Le plan DGE est donc parallèle au plan ACF .
 - c) Soient M et N les milieux respectifs de $[AE]$ et $[CG]$.
Le quadrilatère $BMHN$ est un losange et ses diagonales MN et BH sont donc perpendiculaires.
Comme $MN \parallel AC$, nous en déduisons que BH est orthogonale à AC .
D'une façon analogue, on prouve que BH est orthogonale à AF .
La droite BH est donc orthogonale à deux droites sécantes (AC et AF) contenues dans le plan ACF , et BH est donc perpendiculaire à ACF .
 - d) Le plan BDH est perpendiculaire au plan ACF car BDH contient la droite BH qui est perpendiculaire au plan ACF (voir (c)).

2. Par le petit théorème de THALES, on trouve que $MN \parallel AB$ (dans le triangle SAB) et $NP \parallel BC$ (dans le triangle SBC). On en déduit que $MN \parallel ABCD$ et $NP \parallel ABCD$.
Le plan $MNPQ$ contient ainsi deux droites sécantes (MN et NP), toutes deux parallèles au plan $ABCD$, ce qui prouve que $MNPQ \parallel ABCD$.

3.
 - a) AC est perpendiculaire à DB (diagonales du carré $ABCD$).
 AC est perpendiculaire à EF (diagonales du carré $AECF$).
Les droites DB et EF étant sécantes (ce sont les diagonales du carré $DEBF$) et toutes deux contenues dans le plan $DEBF$, cela prouve que $AC \perp DEBF$.
 - b) $AECF$ contient AC qui est perpendiculaire à $DEBF$. Donc $AECF \perp DEBF$.

4. DCG est le plan médiateur du segment $[AB]$ car $|DA|=|DB|$, $|CA|=|CB|$ et $|GA|=|GB|$ (le triangle GAB est en effet isocèle). Donc $AB \perp DCG$ ce qui implique que AB est orthogonale à toutes les droites incluses dans DCG , en particulier $AB \perp DG$.
De la même façon, en partant du fait que DAG est le plan médiateur de $[BC]$, on montre que $BC \perp DG$.
La droite DG est donc orthogonale à deux droites sécantes (AB et BC) contenues dans le plan ABC , et donc : $DG \perp ABC$.